

## I. Rövid választ igénylő feladatok

### 1. Az ókori keleti civilizációk vallási és kulturális jellemzői

Rendezze táblázatba az alábbi keleti kultúrák emlékeit, majd válaszoljon a hozzájuk kapcsolódó kérdésekre! Több kép is tartozhat egy kultúrához. (Elemenként 0,5 pont.)



A



B



C



D



E



F

1.

Képek betűjele	Kultúra megnevezése
A	
B	
C	
D	
E	
F	

2. Melyik kép kapcsolható a szigorú monoteizmushoz? (0,5 pont)

.....

3. Milyen írástípus jeleit fedezhetjük fel a **B** képen? (0,5 pont)

.....

4. Melyik képen fedezhető fel vallásalapító? Ki ő? (Elemenként 0,5 pont.)

.....



### 2. A középkori város és a céhes ipar

Az alábbi forrásrészletek egy német posztócéh szabályzatából valók. A forrás és ismeretei segítségével döntse el, hogy igazak vagy hamisak a táblázat állításai! (Elemenként 0,5 pont.)

„3. Szokásunk, hogy magunk ügyelünk fel kártolóinkra és fonóinkra. [...]

5. Olyanoknak, akik nincsenek benne céhünkben és nem élnek városunkban, tilos posztóra alkalmazott pecsétünket használni.

6. Aki ellen feljelentés érkezett, és nem tudta bebizonyítani tisztességes voltát, nem maradhat céhünkben [...]

9. Ősidóktól fogva szokásban van nálunk, hogy mesterségünk szükségleteivel kapcsolatban minden rendelkezést magunk adhatunk ki, kivéve, ha olyan rendelkezésről van szó, amelyek a város bíráinak vagy a tanácsnak a hatáskörébe tartoznak.

12. [...] Ha valahol szegéllyel ellátott vagy helyenként bevágott posztót találnak, vagy pedig olyat, amelyről kiderül, hogy hulladékból vagy gyapjúcafatokból készült, vagy amelyet világos fonállal javítottak meg, az ilyen posztót el kell kobozni a mestertől. [...]

13. Ha valaki a városon kívül ad szőni vagy kikészíteni posztót, és kiderül, hogy az szegéllyel van ellátva, az ilyen posztót el kell kobozni a mestertől, a mestert pedig egy évre meg kell fosztani attól a jogtól, hogy mesterségét folytassa; a határidő elteltével a tilalom felfüggesztését kérheti mestereinktől, de köteles 5 márka pénzbüntetést fizetni.

24. Ha valakinél elrejtett szövőszéket találnak, 1 márkát fizet utána.

41. Az a szövő, aki mestertársainktól a megállapítottnál többet kér, négy hétre elveszti a jogot, hogy mesterségét folytassa, ő maga és a felesége is.”

(A frankfurti posztókészítőkre vonatkozó előírások, 1345)

Állítás	Igaz	Hamis
1. A céhes termelésre alapvetően igaz, hogy a szűk piac miatt mesterségesen korlátozta a termelés mennyiségét.		
2. A céhek a posztókészítés teljes munkafolyamatát igyekeztek maguk ellenőrizni.		
3. A frankfurti posztókészítők céhének különlegessége, hogy elfogadta a kontárok tevékenységét is.		
4. A versenyhelyzet miatt a céh igyekezett minél olcsóbb alapanyagot felhasználni.		
5. A céhek jogalkotásukban Frankfurtban teljes autonómiát élveztek.		
6. A céhtagság kritériuma a városban való lakás és a szakmai hozzáértés volt.		



### 3. Zsigmond király külpolitikája

Ismeretei és a huszita mozgalomról szóló források segítségével oldja meg a Zsigmond és a huszitizmus kapcsolatáról szóló feladatokat!

„Zsigmond király pedig, azért is, mert ráruházott római királyi [másként: Itália királya, a császár egyik címe] tisztségénél fogva is köteles volt megvédelmezni a katolikus vallást, de elsősorban azért, mivel a husziták nagy haddá tömörülve pusztították az ő szülőföldjét, és tüzzel-vassal kegyetlenül harcoltak a szektájukhoz nem tartozók ellen, fegyverbe szólította ellenük nem egy ízben majd a magyar, majd a német nemzet haderejét, és nem kímélve őseitől örökölt hazája földjét és annak népét, nagy pusztítást vitt véghez Csehországban. [...]

Mivel Zsigmond király úgy vélte, hogy nem tudja erővel megfékezni a hitszegők dühét, egyetemes zsinati határozattal óhajtotta elfojtani a vést, és összehívatta a keresztény vallás híres egyetemes zsinatát, a konstanzit.”

(Részlet Thuróczy János krónikájából)

1. Milyen eredménnyel zárult a huszita tanítások szempontjából a konstanzi zsinat? (1 pont)

.....

2. Melyik Husszal összefüggő zsinati mozzanatot ábrázolja a kép? (0,5 pont)

.....



3. Mi volt Husz tanairól szóló vita mellett a másik, fontos zsinati kérdés? (1 pont)

.....

4. Miért nevezhette Thuróczy Zsigmond „őseitől örökölt hazája földjének” Csehországot? (1 pont)

.....

5. Mi volt a huszita mozgalom jelképe? (0,5 pont)

.....

6. Miért Zsigmond volt a huszitaellenes harcok vezetője? (1 pont)

.....

7. A képen egy huszita haditechnikai/harcászati újítást lát. Nevezze meg ezt az újítást! (1 pont)

.....



#### 4. A francia abszolutizmus XIV. Lajos korában (komplex feladat)

A források és ismeretei segítségével válaszoljon a XIV. Lajos uralmához kapcsolódó kérdésekre!

„Önből nagy király lesz, gyermekem. Ne kövessen az építkezések meg a háborúzás iránti hajlamomban, épp ellenkezőleg: igyekezzék békében élni szomszédjaival. Adja meg Istennek, amivel neki tartozik, ne feledkezzék meg iránta való kötelességéről, és cselekedjék úgy, hogy alattvalói is tiszteljék az Urat. Kövesse mindig a jó tanácsokat, iparkodjék könnyíteni népének terhein, én igen nagyon fájjalom, hogy nem ezt tettem.”

(XIV. Lajos halálos ágyán utódához intézett szavai. Saint-Simon herceg emlékiratai)

1. Nevezzen meg egy jelentős, katonai célú építkezést, ami megterhelte a francia államkasszát! (0,5 pont)

.....

2. Nevezzen meg egy, a király élete végén a Francia Királyság részvételével zajló háborút! (0,5 pont)

.....

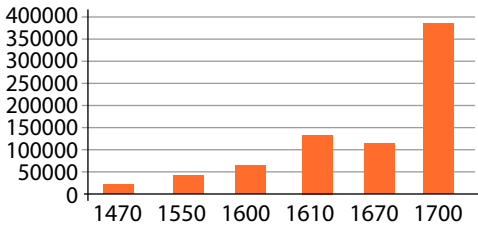
3. Milyen célokat szolgált a király képen látható, látványos építkezése? (Legalább két elemet említsen!) Hol állt a képen látható épület? (Elemenként 0,5 pont.)



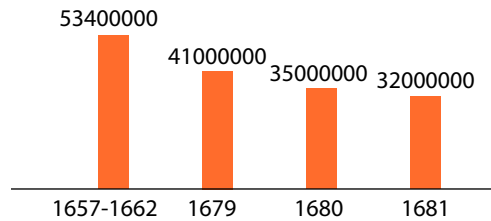
.....

.....

.....



| A francia hadsereg létszámának alakulása



| A fejadóból származó bevételek livre-ben

4. Fogalmazza meg egy mondatban, hogy milyen problémára vet fényt a két diagram? (1 pont)

.....

5. Milyen egyéb gazdaságpolitikával/gazdaságpolitikai intézkedésekkel növelhette bevételeit a francia állam? Nevezze meg a gazdaságpolitikát (0,5 pont), majd fejtse ki egy mondatban, hogy az miként növelhette a bevételeket! (1 pont)

.....

.....

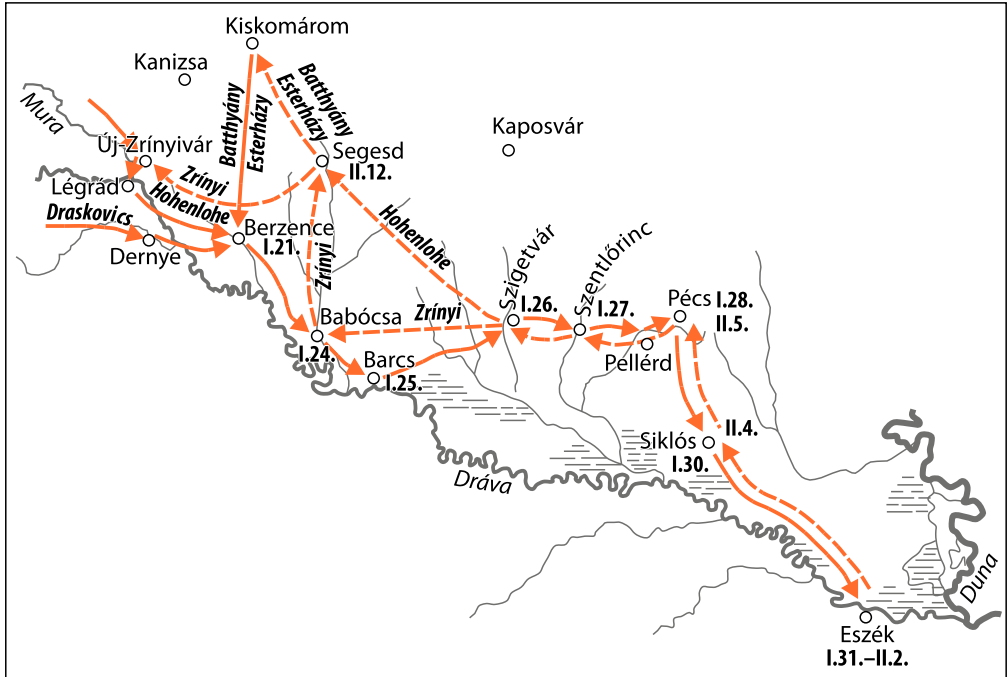
6. Milyen katonai/politikai oka volt a francia haderő a 17. század végi jelentős növelésének? (1 pont)

.....



### 5. Zrínyi Miklós tevékenysége és a török kiűzése Magyarországról

A térkép Zrínyi Miklós pályafutásának legjelentősebb katonai eseményét ábrázolja. A kérdések segítségével válaszoljon a térképen látható hadjáratokhoz kapcsolódó kérdésekre!



1. Melyik évben (0,5 pont) és melyik évszakban (0,5 pont) zajlott a hadjárat?  
.....
2. Miért éppen ezt az évszakot választották? (1 pont)  
.....
3. Milyen, a török számára fontos stratégiai pontot sikerült elpusztítani a keresztény haderőnek? (0,5 pont)  
.....
4. Milyen hivatala kötötte Zrínyit a térképen látható tájegységhez, a Dráva vidékéhez? (0,5 pont)  
.....



**6.** Az ipari forradalmak társadalmi hatásai (demográfia, életmód, nők helyzete)

A képi forrás a korszak társadalmi változásait mutatja be. Válaszoljon a kérdésekre!



Dolgozó nők Párizsban, 1904

1. Milyen munkát végeznek a fallal szemben ülő hölgyek? (0,5 pont)  
.....
2. Miben volt újdonság a munkavégzők személye és társadalmi státusza? (1 pont)  
.....
3. Milyen korábbi találmány használt elektromos áramot a kommunikációban? (0,5 pont)  
.....
4. Ki az a magyar feltaláló, akinek a neve a telefonközponthoz kapcsolódik? (0,5 pont)  
.....
5. Milyen más találmányt lát a képen, ami az ipari forradalom második szakaszához kapcsolódik? (0,5 pont)  
.....





## 2. FELADATSOR

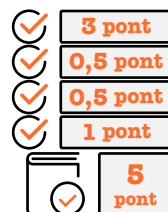
## I. Rövid választ igénylő feladatok

**1.** Az ókori keleti civilizációk vallási és kulturális jellemzői  
Elemenként 0,5 pont.

1.

Képek betűjele	Kultúra megnevezése
<b>A</b>	mezopotámiai/babiloni
<b>B</b>	egyiptomi
<b>C</b>	indiai
<b>D</b>	izraeli/zsidó
<b>E</b>	egyiptomi
<b>F</b>	egyiptomi

2. D  
3. hieroglif  
4. C, Buddha (Elemenként 0,5 pont.)



**2.** A középkori város és a céhes ipar  
Elemenként 0,5 pont.

Állítás	Igaz	Hamis
1. A céhes termelésre alapvetően igaz, hogy a szűk piac miatt mesterségesen korlátozta a termelés mennyiségét.	X	
2. A céhek a posztókészítés teljes munkafolyamatát igyekeztek maguk ellenőrizni.	X	
3. A frankfurti posztókészítők cégének különlegessége, hogy elfogadta a kontárok tevékenységét is.		X
4. A versenyhelyzet miatt a céh igyekezett minél olcsóbb alapanyagot felhasználni.		X
5. A céhek jogalkotásukban Frankfurtban teljes autonómiát élveztek.		X
6. A céhtagság kritériuma a városban való lakás és a szakmai hozzáértés volt.	X	





**3. Zsigmond király külpolitikája**

Elemenként 0,5–1 pont.

1. Elítélték a huszita tanokat.  1 pont
2. Huszt eretnekséggel vádolták, itt éppen megfosztják rangjától, és elvezetik / majd megégetik.  0,5 pont
3. A nagy nyugati egyházszakadás megszüntetése.  1 pont
4. Mert Csehországban a Luxemburg-dinasztia uralkodott Zsigmond előtt is: pl. Luxemburgi János, Károly és Vencel.  1 pont  
(Más, hasonló tartalmú válasz is elfogadható.)  0,5 pont
5. A kehely, a két szín alatti áldozás jelképe.  0,5 pont
6. (Jövendőbeli) német-római császárként kötelessége volt a katolicizmus védelme. (Más, hasonló tartalmú válasz is elfogadható.)  1 pont
7. szekérvár  1 pont

**4. A francia abszolutizmus XIV. Lajos korában (komplex feladat)**

Elemenként 0,5–1 pont.

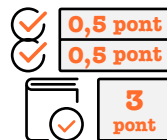
1. Erődítmények építése az ország határán.  0,5 pont
2. A spanyol örökösödési háború.  0,5 pont
3. Versailles-ben. Reprerentációs célt, illetve a kastélyba vonzott francia arisztokrácia ellenőrzését. (Elemenként 0,5 pont.)  1,5 pont
4. A költségek a hadsereg létszámával párhuzamosan emelkedtek, ugyanakkor a bevételek csökkentek.  1 pont  
(Más, hasonló tartalmú válasz is elfogadható.)
5. A Colbertizmus/merkantilizmus. (0,5 pont) A gazdaságpolitika a kereskedelmi többlettel, illetőleg a kereskedelemből szerzett illetékekkel volt képes növelni a bevételeket.  1,5 pont  
(Más, hasonló tartalmú válasz is elfogadható.) (1 pont)
6. A század végén Európa nagyhatalmai összefogtak a francia hegemonia megtörésére / Franciaország a közelgő nemzetközi konfliktusra – spanyol örökösödési háború – készült.  1 pont  
(Más, hasonló tartalmú válasz is elfogadható.)

**5. Zrínyi Miklós tevékenysége és a török kiűzése Magyarországról**

Elemenként 0,5–1 pont.

1. 1664 (0,5 pont) télen (0,5 pont)  1 pont
2. Mert a török had felvonulására alkalmatlannak tűnt.  1 pont

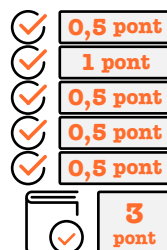
3. Az eszéki hidat.
4. Horvát bán volt, de ez volt a szülőföldje is.



**6. Az ipari forradalmak társadalmi hatásai (demográfia, életmód, nők helyzete)**

Elemenként 0,5–1 pont.

1. Telefonvonalakat kapcsoltak össze/telefonközpontban dolgoznak.
2. Jellemzően polgári női foglalkozás volt.
3. a távíró
4. Puskás Tivadar
5. a (villany- esetleg gáz-) világítás



**7. Egyenlőség és emancipáció**

Elemenként 1 pont.

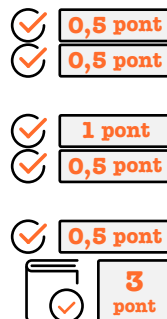
1. Emancipáció (Az asszimiláció nem elfogadható.)
2. Az 1849. évi; a szabadságharc alatt született törvényeket a katonai vereség semmissé tette. (Más, hasonló tartalmú válasz is elfogadható.)
3. A magyarországi zsidóság számarányán felüli bekapcsolódása a szabadságharc katonai küzdelmeibe / a zsidóság jelentős része elkötelezett volt a liberalizmus eszméi iránt. (Más, hasonló tartalmú válasz is elfogadható.)
4. c) vallási közösségként



**8. Az első világháború (hadviselők, frontok, a háború jellege)**

Elemenként 0,5–1 pont.

1. a központi hatalmak
2. 1915
3. Olaszország hadba lépésével „hátba szúrta” volt szövetségését, a Monarchiát. (Más, hasonló tartalmú válasz is elfogadható.)
4. az antantot
5. A központi hatalmak könnyű, látványos győzelmét, „kiporolják” az antant „nadrágját”. (Más, hasonló tartalmú válasz is elfogadható.)



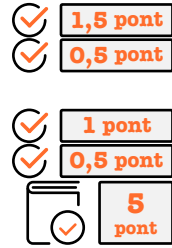
**9. Magyarország háborúba lépése és részvétele a Szovjetunió elleni harcokban**

Elemenként 0,5–1 pont.

1. a Don-kanyarban / Voronyezs térségében
2. Az elsőben a becsület elvesztéséről, a másodikban a helytállásról beszél.



3. Téves (inkább propagandafogásról van szó). A Vörös Hadsereg nem „morzsolódott föl”, amit az elkövetkező időszak offenzívái is mutatnak. (Más, hasonló tartalmú válasz is elfogadható.)
4. Sztálingrád térségében
5. A politikai vezetés felvette a kapcsolatot az angolszász hatalmakkal. (A válasz más megfogalmazásban is elfogadható.)
6. Kállay Miklós



### 10. Nemzetközi konfliktusok a hidegháború idején

Elemenként 0,5 pont.

Szempont	USA	SZU
Saját politikai rendszeréről	A	D
Ellenfele ideológiájáról	E	B
A kelet-európai változásokkal kapcsolatos politikáról	F	C



### 11. A rendszerváltozás főbb eseményei

Elemenként 0,5 pont.

Állítások	A	B	C	D	E	F
1. A képi megjelenítésben a kommunista múlttal való szakítás hangsúlyos szerepet kap. (3 elem)	X			X		X
2. Jól körülhatárolható választói csoportot szólít meg a plakát. (3 elem)				X	X	X
3. Kiemeli, hogy képviselői rendelkeznek a kormányzáshoz szükséges előrelátással, hosszú távú programmal. (1 elem)		X				
4. A párt hagyományaira, hosszú politikai múltjára épít. (2 elem)					X	X



Mely pártok koalíciója kezdte meg a kormányzást az 1990-es választások után?

Elemenként 0,5 pont.

MDF (A), FKGP (E), KDNP (F)



### 12. A pénzpiac működése

Elemenként 0,5 pont.

Központi (jegy-) bank: a, b, d, e, f, g

